

令和5年度

県立高等学校入学者選抜
学力検査問題

社 会

注 意

- 1 「始め」の合図があるまでは、問題用紙を開いてはいけません。
- 2 問題用紙は表紙を入れて16ページあります。
また、問題は大問【1】から【6】まであります。
- 3 答えは、すべて別紙の解答用紙に記入しなさい。
- 4 「やめ」の合図で、すぐに鉛筆を置きなさい。

【1】 世界のさまざまな地域について、次の各問いに答えなさい。

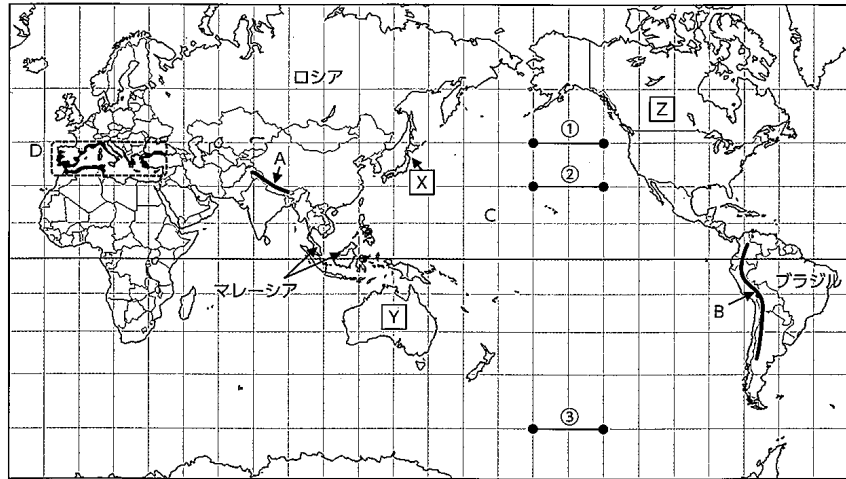


図1

問1 図1中A～Cの名称の組み合わせとして正しいものを次のア～エのうちから1つ選び、記号で答えなさい。

- | | | | |
|---|----------|----------|-------|
| ア | A アンデス山脈 | B ロッキー山脈 | C 太平洋 |
| イ | A ヒマラヤ山脈 | B アンデス山脈 | C 太平洋 |
| ウ | A ヒマラヤ山脈 | B アルプス山脈 | C 大西洋 |
| エ | A アルプス山脈 | B アンデス山脈 | C 大西洋 |

問2 図1は緯線と経線が直角に交わる地図である。図1中①～③のうち実際の距離が最も長くなるのはどれかを1つ選び、記号で答えなさい。

問3 次の文は図1D内の黒塗りで示した地域のおもな農業の特徴について述べたものである。空欄①・②に入る語句の組み合わせとして正しいものを次のア～エのうちから1つ選び、記号で答えなさい。

(①) 気候を生かして、夏はオレンジやオリーブなどを栽培し、冬には (②) などを栽培する農業。

- | | | |
|---|-------------------|--------|
| ア | ① 夏に雨が多く降り、冬に乾燥する | ② コーヒー |
| イ | ① 夏に乾燥し、冬に雨が多く降る | ② 小麦 |
| ウ | ① 夏に乾燥し、冬に雨が多く降る | ② カカオ |
| エ | ① 夏に雨が多く降り、冬に乾燥する | ② 小麦 |

問4 次の図2は図1中のX・Y・Zのそれぞれの国のおもな輸出相手国を示すものである。図2中のa・bにあてはまる国を答えなさい。

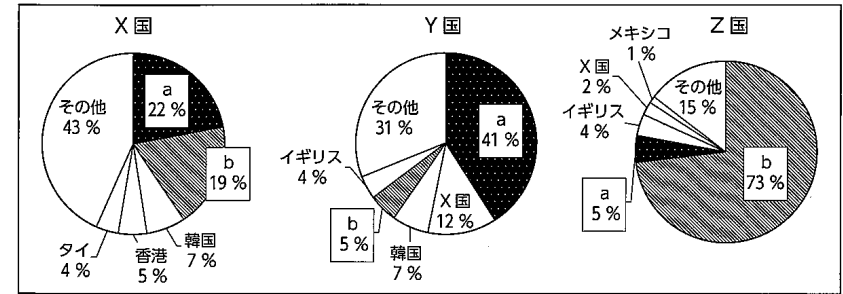


図2 2020年の輸出額 総務省統計局「世界の統計2022」より作成

問5 次の図3中の「あ」はロシアと周辺諸国を結ぶ施設を示している。この施設を説明する文の空欄①・②に入る語句として正しい組み合わせを次のア～エのうちから1つ選び、記号で答えなさい。

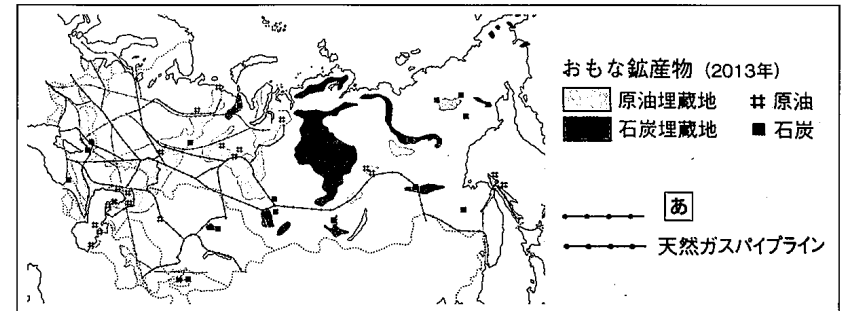


図3

(①) を長距離輸送するためのもので、大量輸送が可能で輸送費用が抑えられるため、主に (②) に利用される。

- | | | |
|---|------|--------------|
| ア | ① 石炭 | ② EU諸国への輸出 |
| イ | ① 石油 | ② EU諸国からの輸入 |
| ウ | ① 木材 | ② 国内の大都市への供給 |
| エ | ① 石油 | ② EU諸国への輸出 |

問6 マレーシアの特徴として最も適当なものを次のア～エのうちから1つ選び、記号で答えなさい。

- | | |
|---|---------------------------------------|
| ア | 古くから住んでいる人々のほかに、中国などから移り住んだ人々も生活している。 |
| イ | 偏西風の影響を受け、一年中高温で雨が降り多い気候である。 |
| ウ | かつて欧米の植民地だった影響から国民の大部分はキリスト教を信仰している。 |
| エ | 小麦栽培が盛んで、小麦粉を加工したパンを主食とする地域である。 |

問7 さくらさんは、ブラジルの森林破壊について調べ、発表用のポスターをつくることになった。

図4はその一部である。(1)(2)に入るものとして、最も適当なものをそれぞれ1つ選び、記号で答えなさい。なお(1)はア～ウから、(2)はエ～カから選ぶものとする。

ブラジルの森林伐採の理由と解決におけた取り組み

(1)

↑ブラジルの熱帯林

Q. 森林を伐採するのはなぜ？

A. 経済を発展させるため


・鉱山開発、大規模な牧場や農地の開発をすすめた。

→モノカルチャー経済から抜け出し、工業化もすすんだ。

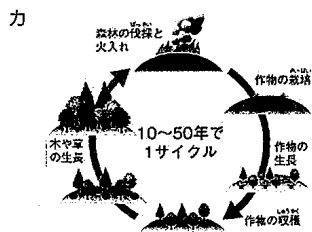
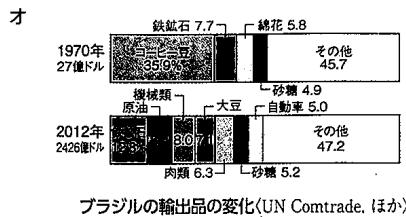
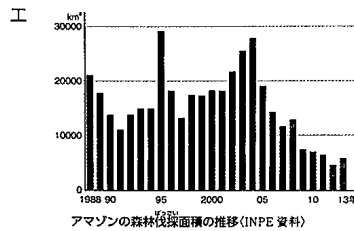
(2)

図4

(1)に入る写真



(2)に入る資料



【2】 日本のさまざまな地域について、次の各問いに答えなさい。

問1 次の図1中 **A** の地域には火山の噴出物によってできた台地が分布している。このような台地を何というか、答えなさい。

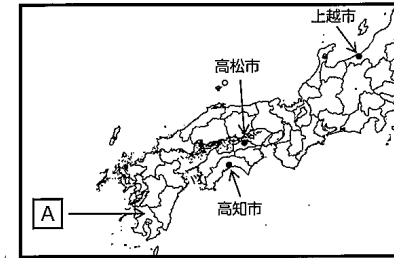


図1

問2 次の図2の雨温図は、高松市・高知市・上越市のいずれかのものである。上越市の雨温図として適当なものをア～ウのうちから1つ選び、記号で答えなさい。

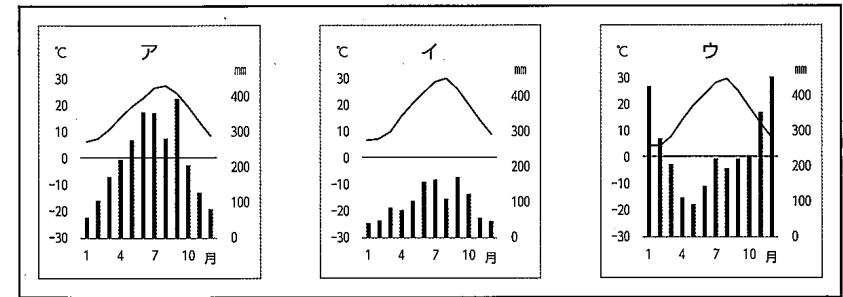


図2

(気象庁資料より作成)

問3 次の図3は沖縄県、宮崎県、愛媛県、岡山県の人口(2020)、産業別人口割合(2017)、農業産出額(2019)、製造品出荷額(2019)、65歳以上人口割合(2019)を示したものである。宮崎県にあたるものを図3中のア～エのうちから1つ選び、記号で答えなさい。

県名	人口千人	産業別人口割合 (%)			農業産出額 (億円)	主な産出物 (億円)			製造品出荷額 (億円)	人口割合 (%) 65歳以上
		第1次産業	第2次産業	第3次産業		野菜	果実	畜産		
ア	1,468	4.0	15.4	80.7	977	146	60	459	4,990	22.2
イ	1,335	7.9	23.7	68.5	1,207	190	527	249	43,303	33.0
ウ	1,889	4.3	27.2	68.5	1,417	205	249	581	77,397	30.3
エ	1,072	10.4	21.1	68.6	3,396	661	123	2,209	16,523	32.3

図3

(「データで見る県勢2022」より作成)

問4 はじめさんは、夏の電力不足のニュースを見て、日本の発電事情について調べることにした。
はじめさんのレポートを見て、次の問いに答えなさい。

テーマ 電力不足をどうやって乗り切る？～日本の電力安定供給への道～

【資料1】日本の発電量の内訳 (%) (2019)

【資料2】エネルギー資源の輸入相手国と海外依存度 (2020)

原油 海外依存度 99.7%	サウジアラビア 40.1%	アラブ首長国連邦 31.5%	カタール 9.0%	クウェート 8.3%	その他 11.1%	
石炭 海外依存度 99.6%	オーストラリア 59.6%	インドネシア 15.9%	ロシア 12.5%	その他 6.6%		
液化天然ガス 海外依存度 97.7%	オーストラリア 39.1%	マレーシア 14.2%	カタール 11.7%	ロシア 8.2%	アメリカ合衆国 6.3%	その他 15.2%

【資料3】主要国のエネルギー自給率*1

*1 エネルギー自給率：国民生活や経済活動に必要な一次エネルギーのうち、自国内で産出・確保できる比率

調べて分かったこと

X

解決策 エネルギー資源を自給できる Y エネルギーを活用した発電に切り替えてみてはどうか。

【写真1】 **【写真2】** **【写真3】**

九州にある発電所は、地中から噴出する天然の蒸気を利用している。
山陰にある発電所は海岸沿いに設置されている。
九州にある発電所は沿岸にパネルを設置している。

【資料4】発電別 CO₂ 排出量 (g-CO₂/kWh)

□ 発電燃料燃焼 □ 設備運用

【電力中央研究所報告 (2010.8) より作成】

良い点 **課題点**：発電費用がかかる。設置できる場所が限られる。自然状況に左右され、電力供給が不安定である。

まとめ 日本で行われている発電には、それぞれ良い点と課題点がある。お互いの課題を補いつつ、電力の安定供給に向け、どのようなバランスを取っていくかが大切だと思った。

- (1) はじめさんは、最初に日本の発電事情について調べた【資料1】～【資料3】から、分かったことを X にまとめた。【資料1】～【資料3】から読み取れることとして適当なものを次のア～エのうちから2つ選び、記号で答えなさい。
- ア 日本の発電量の約7割を火力発電が占めており、原子力発電が2番目に多い。
イ エネルギー資源の多くを海外からの輸入に頼っており、原油は西アジアの国々などから輸入している。
ウ 日本のエネルギー自給率は主要国に比べ、低くなっている。
エ 資源が豊富なオーストラリアのエネルギー自給率は、カナダより低い。
- (2) レポート中の Y にあてはまる【写真1】～【写真3】のような化石燃料を使わず、くり返し利用できる自然の力をエネルギー源とするものを何エネルギーというか、あてはまる語句を漢字4字で答えなさい。
- (3) はじめさんは調べている中で【写真1】～【写真3】の発電にも良い点と課題点があることが分かった。良い点について【資料4】を活用しながら「環境」という語を用いて説明しなさい。

・良い点は、資源を自給できることや ()。

問5 次の文は図4の地形図から分かる土地の様子や利用について述べたものである。空欄①～③に入る語句の組み合わせとして最もふさわしいものを次のア～エのうちから1つ選び、記号で答えなさい。

- ・A付近と比べて標高の(①) B付近は(②)として利用されている。
- ・図4の東側半分にみられる平地は(③)である。

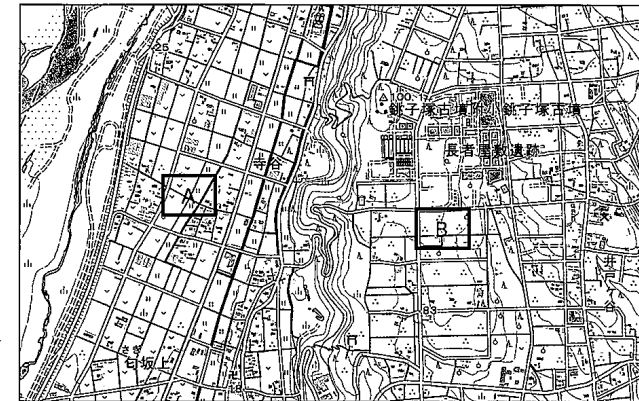


図4 (国土地理院地図 磐田市周辺)

- ア ① 低い ② 水田 ③ 扇状地 イ ① 低い ② 水田 ③ 台地
ウ ① 高い ② 茶畑 ③ 扇状地 エ ① 高い ② 茶畑 ③ 台地

【3】 三郎さんは、古代から近世の間の「政権や政策が変わるとき」について調べたことを、カードA～Dにまとめた。これらについて、次の各問いに答えなさい。

<p>A 大化の改新</p> <p>□ X □らが□ Y □</p> <p>氏を倒して、新しい国家のしくみをつくる改革を行った。</p>	<p>B 武家政権の誕生</p> <p>平清盛が武士として初めて太政大臣となり、平氏滅亡後は源頼朝が征夷大将軍に任じられた。</p>	<p>C 琉球王国の成立</p> <p>尚氏が三つの勢力に分かれていた琉球を統一し、首里を都として、政治を始めた。</p>	<p>D 江戸幕府の改革</p> <p>財政などの建て直しのため、享保の改革・寛政の改革・天保の改革が行われた。</p>
--	--	---	--

問1 カードAの□ X □と□ Y □にあてはまる語句の組み合わせとして正しいものを、次のア～エのうちから1つ選び、記号で答えなさい。

- ア X 中大兄皇子(天智天皇) Y 藤原
 イ X 中大兄皇子(天智天皇) Y 蘇我
 ウ X 大海人皇子(天武天皇) Y 藤原
 エ X 大海人皇子(天武天皇) Y 蘇我

問2 カードBについて、次の問いに答えなさい。

(1) 武家の中でも、平氏(平清盛)が政治の実権を握ることができたのはなぜか。図1から読み取れることをもとに、天皇との関係に着目して、その理由について次の文を完成させなさい。

武士団の中でも ()
 である平氏が有力な存在となり、平清盛は ()
 政治の実権を握った。

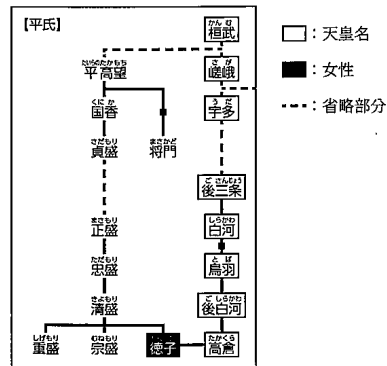



図1 天皇家・平氏の系図

(2) この時期につくられたものとして適当なものを、次のア～エのうちから1つ選び、記号で答えなさい。



問3 カードCに関連して、三郎さんが15世紀の琉球王国の特徴として「中継貿易で栄えた」ことを主張する際に、用いる資料として適当なものを、次のA群・B群のア～ウのうちから、それぞれ1つずつ選び、記号で答えなさい。

A群	<p>ア</p> <p>琉球人の繁栄を祈り且つ琉球人とアメリカ人が常に友人たらんことを望む(中略)ペルリ(ペリー)提督挨拶</p>	<p>イ</p> <p>琉球国は南海の景勝の地であり、朝鮮の優れた文化を集め、中国や日本とは親密な関係にある(部分要約)</p>	<p>ウ</p> <p>日本より安南国(現在のベトナム)にいたる船である。右 慶長十年(部分要約)</p>
B群	<p>ア</p>	<p>イ</p>	<p>ウ</p>

問4 カードDに関して、天保の改革と同じ時期に起こった出来事の説明として正しいものを、次のア～エのうちから1つ選び、記号で答えなさい。

- ア 皇帝フピライのもと元軍が日本へ襲来したが、幕府軍は武士を率いてこれを退けた。
 イ 明が、貿易の条件として倭寇の取り締まりを求めたので、幕府はこれに応じた。
 ウ ヨーロッパで羅針盤が実用化され、日本にもスペイン船などが来航するようになった。
 エ アヘン戦争における清の敗北を知った幕府は、外国船に対する方針をゆるめた。

問5 カードA～Dに関して、次の各問いに答えなさい。

- (1) 資料1は、カードA～Dのいずれかの時期によまれた歌である。その時期として適当なものをカードA～Dのうちから1つ選び、記号で答えなさい。
 (2) 資料2は、カードA～Dをもとにした三郎さんのまとめである。これをもとに資料1の作者は「政権や政策の変化」を「好意的に受け止めた」または「否定的に受け止めた」、のどちらにあてはまるか、適切なものを解答欄に○で囲みなさい。

白河の清きに魚の住みかねて
 もとのにごりの田沼恋しき

資料1

《まとめ》
 政治や政策の変化を好意的に受け止めた人々もいれば、否定的に受け止めた人々もいた。その違いがなぜ生まれるのか疑問に思ったので、次はそれについて調べたい。

資料2

【4】 次の図1は、太郎さんが近現代について興味を持った出来事を年代順に並べたものである。これに関する次の各問いに答えなさい。

西暦	主な出来事
1874年	① 民撰議院設立建白書を提出する
1885年	② 渋沢栄一が東京瓦斯会社を設立する
1895年	③ 下関条約が結ばれる
1931年	満州事変がおこる……………
1951年	④ サンフランシスコ平和条約が調印される……………
1995年	⑤ 平和の礎が完成する

図1

問1 下線部①を説明した内容として最も適当なものをア～エのうちから1つ選び、記号で答えなさい。

- ア 憲法の政治に基づく政治を守ることを要求した。
- イ 満20歳になった男子から徴兵を行うことを要求した。
- ウ 国民が選んだ議員が作る国会の早期開設を要求した。
- エ 税を米ではなく、現金で納めることを要求した。


問2 太郎さんは下線部②の人物とともに、津田梅子と北里柴三郎の2人が新紙幣(2024年発行予定)の図柄になることを知った。この2人の説明として最も適当なものを、次のア～エのうちからそれぞれ1つずつ選び、記号で答えなさい。

- ア 出兵した弟を思い、「あゝをとうと(弟)よ君を泣く 君死にたまふことなかれ」の詩をよんだ。
- イ 留学先のアメリカから帰国後、女子英学塾をつくり、女子教育に生涯をささげた。
- ウ 足尾銅山の鉱毒被害に対し初の公害反対運動を行い、被害者救済に努めた。
- エ ペスト菌や破傷風の血清療法を発見し、世界的に評価された。

問3 下線部③に関する説明として誤っているものを、次のア～エのうちから1つ選び、記号で答えなさい。

- ア 日本は、台湾・澎湖列島を獲得した。
- イ 日本は、清に対し朝鮮の独立を認めさせた。
- ウ 日本は遼東半島を獲得したが、三国干渉が起こったため、清に返還した。
- エ 日本は賠償金を得られなかったため、国内で暴動が起こった。

問4 図1の④の期間に起こった日本の出来事について、次のア～ウを年代の古い順に並べ、記号で答えなさい。



ア 長崎に落とされた原子爆弾 イ 初めての女性国会議員 ウ 国際連盟を脱退

問5 下線部④の条約調印により、「日本」と「沖縄や小笠原諸島など」は、それぞれどのような立場となったか。解答欄の書き出しに沿って説明しなさい。

問6 下線部⑤に関連して、表1から読み取れることについて述べたA・Bの文を読み、その正誤の組み合わせとして正しいものを、次のア～エのうちから1つ選び、記号で答えなさい。

- A: 刻銘された数は、1995年以降から変わることなく現在に引き継がれている。
- B: 国籍や都道府県を問わず沖縄戦などで亡くなった人の名前が刻まれている。

表1

出身地		令和3年度刻銘者総数	令和4年度刻銘者総数
日本	沖縄県	149,584	149,611
	県外都道府県	77,458	77,485
外国	米国・英国	14,092	14,092
	台湾・北朝鮮・大韓民国	498	498
合計		241,632	241,686

「平和の礎」刻銘者数一覧(2022(令和4)年6月現在)
(沖縄県ホームページより作成)

	A	B
ア	正	正
イ	正	誤
ウ	誤	誤
エ	誤	正

【5】 みさきさんのクラスでは、公民分野で学習した内容からテーマを決め、各班で調べ学習に取り組んだ。次の表1は、各班のテーマや調べたことに関する一覧である。次の各問いに答えなさい。

表1 【各班のテーマ・調べたこと】

班	テーマ	調べたこと
A	基本的人権	社会権と新しい人権
B	地方自治	地方公共団体のしくみ
C	選挙制度	日本の選挙制度と課題
D	裁判所	司法権と司法制度改革

問1 A班は「社会権と新しい人権」について調べました。次の問いに答えなさい。

(1) レポート1に関連して、労働者の権利の組み合わせとして正しいものを次のア～エのうちから1つ選び、記号で答えなさい。

- a 労働者が賃金などについて使用者と話し合うことができる。
- b 労働者が労働条件の改善を求めてストライキを行うことができる。
- c 労働者が使用者と対等に交渉するために労働組合を作ることができる。

《レポート1》

社会権…人間らしい生活が保障される権利

具体的には ①生存権
②教育を受ける権利
③勤労の権利
④労働基本権

- | | | |
|-----------|---------|---------|
| ア a 団体交渉権 | b 団体行動権 | c 団結権 |
| イ a 団結権 | b 団体交渉権 | c 団体行動権 |
| ウ a 団体行動権 | b 団体交渉権 | c 団結権 |
| エ a 団結権 | b 団体行動権 | c 団体交渉権 |

(2) レポート2に関連して、新しい人権に関する説明として適当でないものを次のア～エのうちから1つ選び、記号で答えなさい。

- ア 新しい人権は、主に日本国憲法第13条の幸福追求権を根拠としている。
- イ 国民の知る権利を保障するために個人情報保護などの法律が定められている。
- ウ 自分の顔などを勝手に撮影されたり、その写真等を公表されたりしない権利を肖像権という。
- エ 環境権は高度経済成長の時期に発生した公害問題などをきっかけに主張されるようになった。

《レポート2》

新しい人権…社会の変化によって必要とされる権利

具体的には ①環境権
②プライバシーの権利
③知る権利
④自己決定権

問2 B班は「地方公共団体のしくみ」について調べました。図1を見て次の問いに答えなさい。

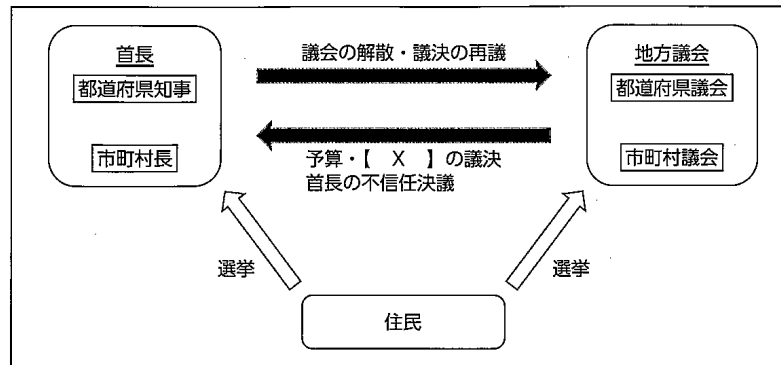


図1 地方公共団体のしくみ

- (1) 図1の【 X 】は地方公共団体が独自に国の法律の範囲で制定する法令の一種で、その地方公共団体にだけ適用されるものです。【 X 】にあてはまる語句を答えなさい。
- (2) 地方自治に関する説明として適当でないものを、次のア～エのうちから1つ選び、記号で答えなさい。
 - ア 地域の重要な課題について、住民の意見を反映させる手段として住民投票が行われることがある。
 - イ 地方公共団体の首長は、議会に議決のやり直しを求めたり、議会を解散することができる。
 - ウ 国の内閣総理大臣は国会が指名するのと同様に、地方公共団体の首長は地方議会によって選ばれる。
 - エ 地方公共団体が自主的に徴収できる財源を自主財源と呼ぶが多くの地方公共団体では事業を行うにあたって、自主財源だけでは十分ではない。

問3 C班は「日本の選挙制度と課題」について調べました。次の問いに答えなさい。

- (1) 日本の選挙制度についての説明として適当でないものを、次のア～エのうちから1つ選び、記号で答えなさい。
 - ア 現在の衆議院議員選挙は小選挙区制と比例代表制を組み合わせた小選挙区比例代表並立制を採用している。
 - イ 小選挙区制では選挙区ごとに1名しか当選しないため、大きな政党が有利となり、当選に反映されない票（死票）が少なくなる。
 - ウ 政党に投票する比例代表制ではさまざまな国民の意見は反映されるが、多くの政党が乱立して政治が不安定になるおそれがある。
 - エ 日本では2015年に公職選挙法改正によって、選挙権年齢が満20歳以上から満18歳以上に引き下げられた。

(2) 日本では主に国政選挙において、「一票の格差」が課題の一つとなっている。この課題について図2を参考にし、【 Y 】, 【 Z 】の説明の正誤の組み合わせとして正しいものを、次のア～エのうちから1つ選び、記号で答えなさい。

	選挙区	
	A県	B県
選出議員数	1人	1人
有権者数	10万人	20万人

図2

- 【 Y 】 図2ではA県の有権者の一票がB県に比べると価値が重い。一票の格差の問題は日本国憲法が規定する法の下の平等と深く関わりがある。
- 【 Z 】 図2ではB県の有権者の一票がA県に比べると価値が重い。一票の格差が問題とされ、選挙の無効を求める裁判もある。

	Y	Z
ア	誤	誤
イ	誤	正
ウ	正	誤
エ	正	正

問4 D班は「司法権と司法制度改革」について調べました。次の問いに答えなさい。

(1) 裁判をより身近で公正なものとするために司法制度改革が進められている。その改革を説明した【 A 】～【 C 】について、あてはまる語句としての正しい組み合わせを、次のア～エのうちから1つ選び、記号で答えなさい。

- 【 A 】…刑事裁判の第一審で、抽選で選ばれた国民が裁判官と一緒に被告人の有罪・無罪や刑の内容を決める制度。
- 【 B 】…弁護士などの専門家が少ない地域でも、だれもが司法に関するサービスを受けられるように設置された。
- 【 C 】…捜査が適正に行われたかを確かめられるように録画・録音等が一部義務化された。
- ア A 日本司法支援センター(法テラス) B 裁判員制度 C 取り調べの可視化
 イ A 裁判員制度 B 取り調べの可視化 C 日本司法支援センター(法テラス)
 ウ A 日本司法支援センター(法テラス) B 取り調べの可視化 C 裁判員制度
 エ A 裁判員制度 B 日本司法支援センター(法テラス) C 取り調べの可視化

(2) 日本では一つの事件について3回まで裁判が受けられる三審制がとられています。3回まで受けられるようにした理由を、空欄にあてはまるよう簡潔に説明しなさい。

「より慎重に を防ぐために」

【6】 次の会話文を読んで、各問いに答えなさい。

K太：地域紛争やテロ行為のニュースは、本当に怖いね。
 国連があるのに、防ぐことはできないのかな。

A美：国連の安全保障理事会は、常任理事国が1か国でも 権を使って反対すると議決できないから、簡単ではないんじゃない？

K太：そっか。国連があれば何でもすぐに解決するってわけじゃないんだね。
 わたし達は、紛争と全く関係がない日本に住んでいて良かったよ。

先生：全く関係がないわけじゃないよ。
 例えば、日本も隣国との間に領土問題があるよね。これを機会に、世界で起きた戦争や内戦を自分事として考えてみる必要があるね。

A美：先生、最近、物の値段が上がっていることも戦争と関係があるんですか？

先生：A美さん、いいところに目をつけたね。全ての原因がそうとは断言できないけれど、紛争で穀物や原油などが不足して、値段が上がっているとも言えるね。

K太：日本はかなりの円安になっているとニュースで聞きましたが、これも物の値段が高くなっている原因の1つですか？

先生：そうだね。輸入に頼る日本経済は、国際情勢の影響を大きく受けるね。
 これと一緒に労働問題も考えていくと日本経済の課題が見えてくるよ。

問1 下線部aの説明文として適当なものを、次のア～エのうちから1つ選び、記号で答えなさい。

- ア アメリカ・イギリス・ドイツ・フランス・中国の常任理事国と、非常任理事国で構成される。
 イ 非常任理事国10か国は国連総会で選出され、任期は2年である。
 ウ 国連教育科学文化機関(UNESCO)や世界保健機関(WHO)の重要事項の最終議決権も持っている。
 エ 主権国家である加盟国は、国連総会や安全保障理事会の決定に従う義務はない。

問2 文中の に当てはまる語句を答えなさい。

問3 下線部bに関連して、現在、日本が領土問題を抱えている地域とその相手国の組み合わせとして正しいものを、次のア～エのうちから1つ選び、記号で答えなさい。

	竹島	北方領土
ア	中国	北朝鮮
イ	北朝鮮	ロシア
ウ	韓国	北朝鮮
エ	韓国	ロシア

問4 下線部cに関連して、物の値段(物価)の変動に関する説明文として適当でないものを次のア~エのうちから1つ選び、記号で答えなさい。

- ア インフレーションが続くと、次第に供給が需要を上回り、景気が回復する。
- イ 好景気で、物価が上がり続ける状態をインフレーションという。
- ウ 不景気になると、物価が下がり続けるデフレーションが起きる。
- エ デフレーションが続くと、次第に供給が減り、需要との均衡が取れて、景気が回復する。

問5 下線部dに関連して説明した(1)(2)の正誤の組み合わせとして正しいものを、次のア~エのうちから1つ選び、記号で答えなさい。

- (1) 1ドル=100円が、1ドル=90円になると円安という。
 (2) 円安は、輸出が中心の企業には有利にある。

	(1)	(2)
ア	正	正
イ	正	誤
ウ	誤	正
エ	誤	誤

問6 下線部eに関連して、正社員(正規雇用者)と非正規雇用者を比較した図1・図2を参考に各問いに答えなさい。

- (1) 図1は、正社員と非正規雇用者数の変化について調べたものである。図中のA・Bどちらが非正規雇用者数を示しているか、A・Bのうちから適当なものを選び、記号で答えなさい。
- (2) 非正規雇用の形態に関連した次の文章の(Y)・(Z)に当てはまる適当な文を答えなさい。

非正規雇用の形態は、企業にとっては業績に応じて(Y)という面があり、厳しい企業間競争に対応するため、図1のように雇用の在り方を見直す企業が増えている。
 しかし、非正規雇用の労働者にとっては、雇用の不安定さや図2のように正社員と比較すると(Z)など、さまざまな問題がある。

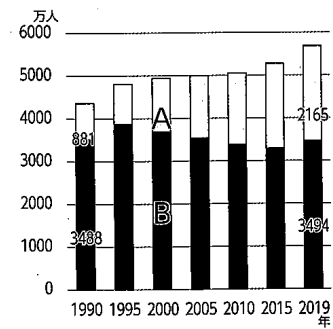


図1 形態別雇用者数の変化(労働力調査)
 ※図1・2中のAとBは、同じ雇用形態を指している

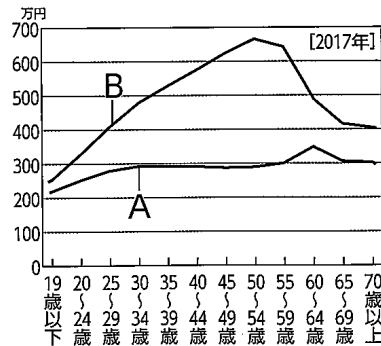


図2 「年齢別平均年収(賃金構造基本統計調査)」